



Découvrir

La planète bleue

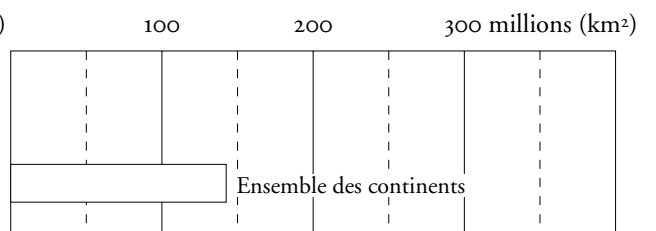
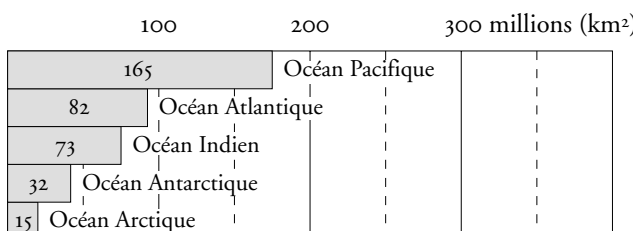


a Sur les dessins ci-dessus, écris les noms des océans en bleu et en majuscules. Repasse l'équateur en rouge.

b Quelle est la différence entre le pôle Nord et le pôle Sud ?

c Explique le surnom donné à la Terre par les astronautes : la « planète bleue ».

d Observe le schéma de gauche puis représente sur celui de droite la superficie de l'ensemble des océans.

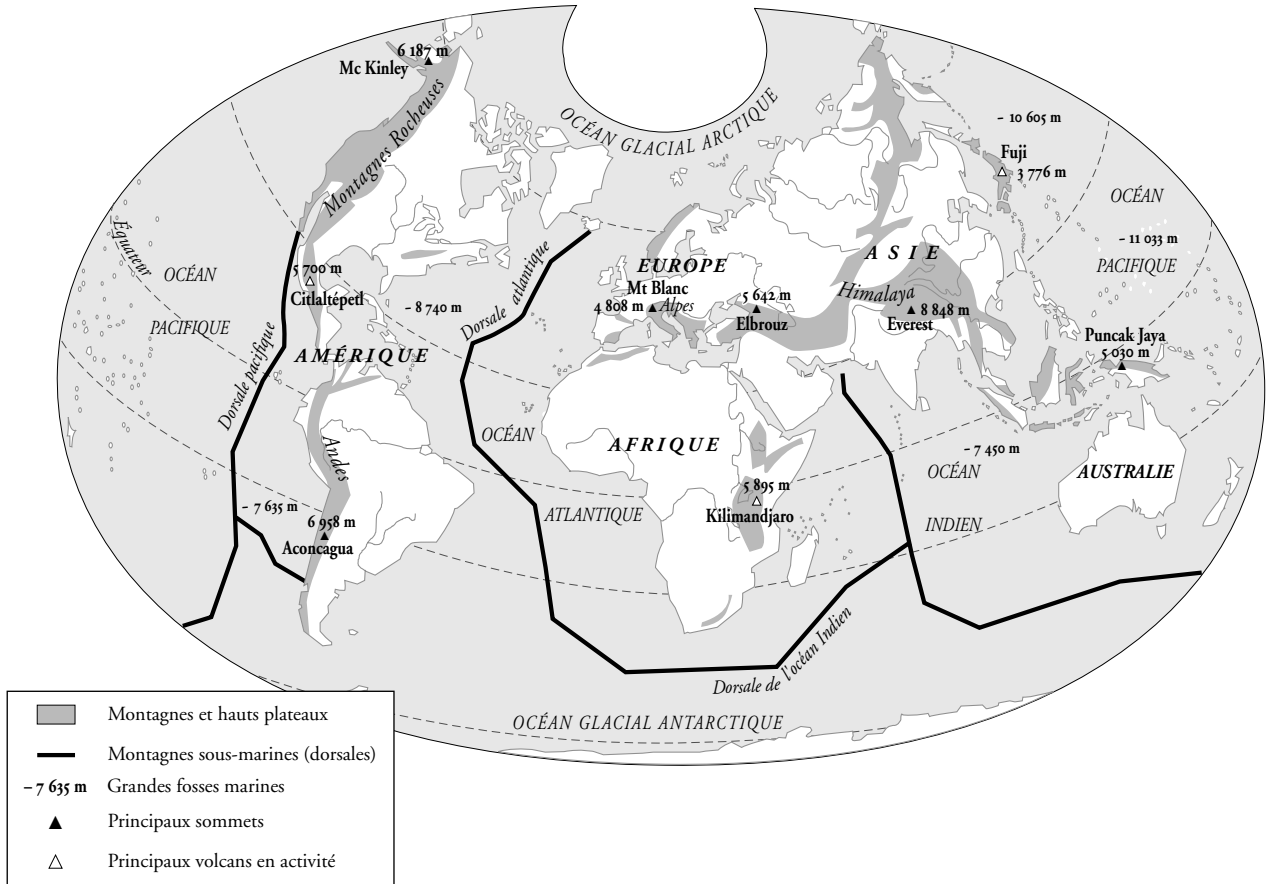




Des reliefs sur terre et sous mer

Aller plus loin

a Cherche la définition géographique du mot *relief*.



b Quelle est la plus haute montagne du monde?

Sur la carte, entoure l'endroit le plus profond.



Retenir

- 71 % de la surface de la Terre sont occupés par des océans, d'où son surnom : **la planète bleue**. L'océan Pacifique est plus grand que l'ensemble des terres émergées.
- On appelle **hémisphère** chacune des deux moitiés de la Terre limitée par l'équateur. La plus grande partie des continents est situé dans l'hémisphère Nord.

| Découvrir la Terre