

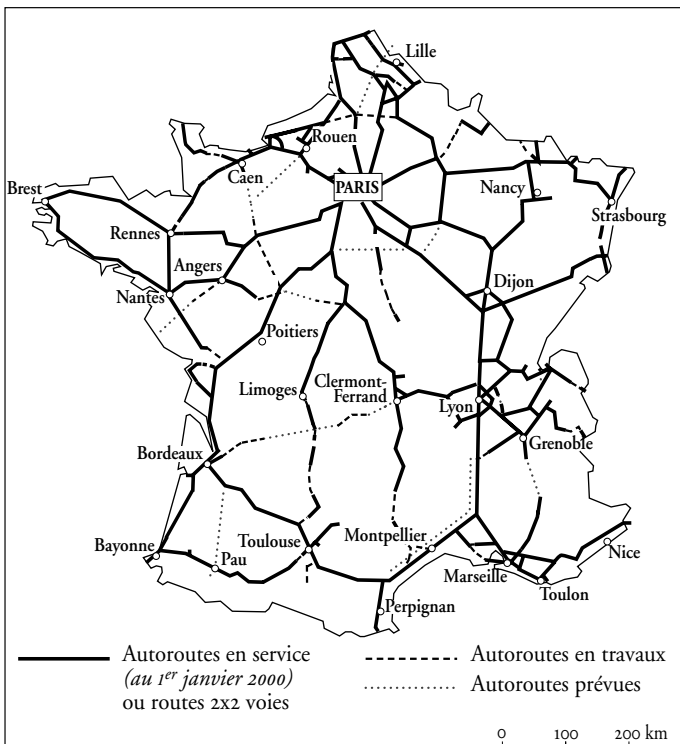
Des réseaux en « étoile »

Découvrir

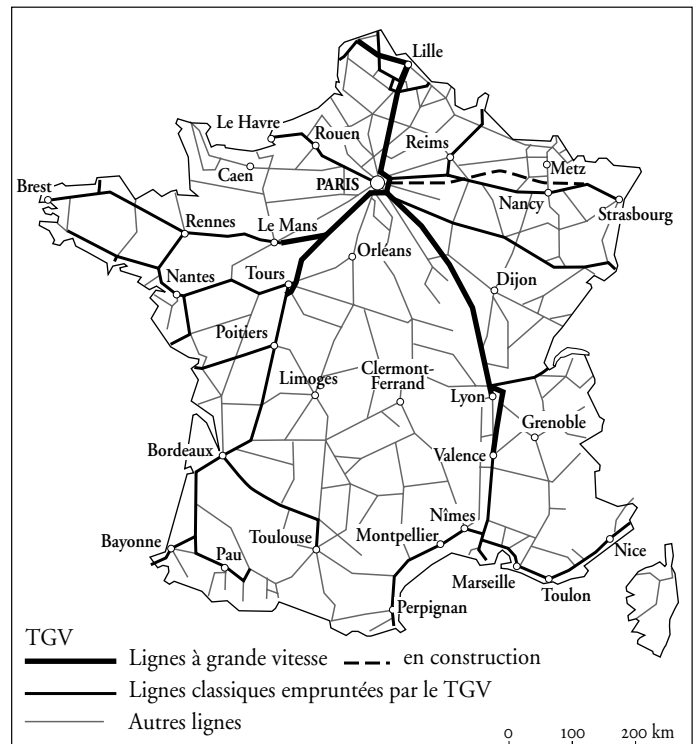
a Observe les deux cartes. Trouves-tu qu'elles se ressemblent? Pourquoi?

b Quelle est la région la plus mal desservie par l'autoroute?

c Dessine au crayon bleu le trajet de Bordeaux à Dijon, par l'autoroute. Est-ce plus pratique par le train? _____



Le réseau autoroutier




Le réseau ferroviaire

d Quel est le point central du réseau de communication français?



Aller plus loin

1 Quels modes de transport repères-tu sur ce document ?



On appelle plate-forme **multimodale** le lieu où se rencontrent différents moyens de transport.

2 Observe le tableau puis réponds aux questions.

	1983	1986	1995
Transport ferroviaire	28,5 %	25,5 %	21 %
Transport routier	53,6 %	57,3 %	65,7 %
Navigation intérieure	4,4 %	3,6 %	3 %
Oléoduc	13,5 %	13,6 %	10,3 %

a. Quel est le mode de transport le plus important ?

En 1983 : _____ En 1995 : _____

b. Quel est le mode de transport le moins utilisé ?

En 1983 : _____ En 1995 : _____

c. Le transport ferroviaire augmente-t-il ? _____

d. Quel mode de transport est en progression constante ? _____

■ Le réseau des transports ressemble à une étoile dont le centre est Paris. Il est plus développé à l'est d'une ligne Le Havre-Marseille.

■ On distingue transport de **personnes** et transport de **marchandises**. La majorité des transports de marchandises se fait **par route**.



Retenir

| Repérer les grandes voies de communication en France